



Nacionalni centar  
za vanjsko vrednovanje  
obrazovanja

Ime i prezime: \_\_\_\_\_

Datum rođenja: \_\_\_\_\_

Razredni odjel: \_\_\_\_\_

# POV

## POVIJEST

**PROBNI ISPIT DRŽAVNE MATURE ŠK. GOD. 2021./2022.**

---

POV.50.HR.R.K1.32



49628

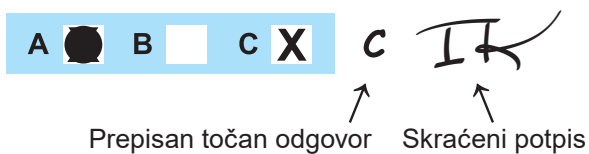
# Povijest

---

Način označavanja odgovora na listu za odgovore:

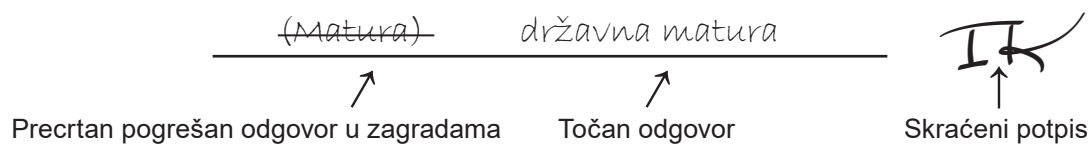


Način ispravljanja pogrešaka na listu za odgovore:



Prepisan točan odgovor      Skraćeni potpis

Način ispravljanja pogrešaka u ispitnoj knjižici:



---

## OPĆE UPUTE

Pozorno pročitajte sve upute i slijedite ih.

Ne okrećite stranicu i ne rješavajte zadatke dok to ne odobri nastavnik.

Ispit traje **135** minuta.

Ispred svake skupine zadataka uputa je za rješavanje. Pozorno je pročitajte.

Možete pisati po listu za koncept, ali se njegov sadržaj neće bodovati.

Pišite čitko. Nečitki odgovori bodovat će se s nula (0) bodova.

Na 2. stranici ove ispitne knjižice prikazan je način označavanja odgovora i načini ispravljanja pogrešaka. Pri ispravljanju pogrešaka potrebno je staviti skraćeni potpis.

Upotrebljavajte isključivo kemijsku olovku kojom se piše plavom ili crnom bojom.

Kada riješite zadatke, provjerite odgovore.

Želimo Vam mnogo uspjeha!

Ova ispitna knjižica ima 32 stranice, od toga 2 prazne.

# Povijest

## I. Zadatci višestrukoga izbora

U sljedećim zadacima od više ponuđenih odgovora samo je **jedan** točan.  
Točan odgovor morate označiti znakom X na listu za odgovore.  
Točan odgovor donosi jedan bod.

1. Koju je neposrednu posljedicu za Židovsku državu imala smrt kralja Salamona?
- A. Državu je osvojio Rim.
  - B. Državu su okupirali Asirci.
  - C. Država je proširena na područje Fenikije.
  - D. Država je razdijeljena na dva kraljevstva.

(1 bod)

2. Pozorno promotrite slikovni prilog.



Koji od navedenih pojmova obuhvaća promjene u životu prapovijesnih ljudi nastale primjenom prikazanoga oruđa?

- A. neolitska revolucija
- B. tehnička revolucija
- C. nomadski način života
- D. lovo-sakupljački način života

(1 bod)

3. Pozorno pogledajte slikovne priloge.



Kojim je brojem označen predmet koji po vremenu nastanka pripada razdoblju eneolitika?

- A. brojem 1
- B. brojem 2
- C. brojem 3
- D. brojem 4

(1 bod)

4. Koji je narod zaslužan za parcelizaciju starogradskoga polja na otoku Hvaru?

- A. Feničani
- B. Grci
- C. Liburni
- D. Rimljani

(1 bod)

# Povijest

---

5. Pozorno promotrite slikovni prilog.



Čemu su služili prikazani predmeti?

- A. za izbor atenskoga stratega
- B. za izbor državnih službenika
- C. za pozivanje u vojsku atenskih građana
- D. za progon pojedinaca opasnih po atensku demokraciju

(1 bod)

6. Pozorno pročitajte povijesni izvor.

*Nitko ne smije ni na jednome mjestu, ni u jednome gradu besmislenim slika bogova žrtvovati nevinu životinju ili u tajnosti odavati štovanje vatrom svojim kućnim bogovima Larima, vinom svome Geniju, miomirisima svojim obiteljskim bogovima Penatima, ili im paliti svijeće i tamjan i vješati vijence. Ako netko, u namjeri da žrtvuje, pospe životinju žrtvenim brašnom ili ispituje njezinu utrobu, podići će se protiv njega optužba za uvredu veličanstva. Ako pak netko već uništene slike bogova štuje tamjanom, taj će biti kao vjerski oskrnavitelj kažnjen gubitkom kuće ili posjeda u kojima je vršio službu poganskim božanstvima.*

Koje je značenje opisanih odredbi za povijest kršćanstva?

- A. Kršćanstvo je zabranjeno.
- B. Kršćanstvo se tolerira kao vjera.
- C. Kršćanstvo je dopušteno uz plaćanje poreza.
- D. Kršćanstvo je postalo rimska državna vjera.

(1 bod)

7. Kada je kralj Andrija II. zajamčio prava nižemu plemstvu hrvatsko-ugarskoga kraljevstva?

- A. krajem 11. stoljeća
- B. početkom 12. stoljeća
- C. krajem 12. stoljeća
- D. početkom 13. stoljeća

(1 bod)

8. Što od navedenoga **nije bila** gospodarska posljedica velikih zemljopisnih otkrića?

- A. priljev zlata i srebra u Europu
- B. početak industrijske revolucije
- C. razmjena biljnoga i životinjskoga svijeta
- D. Sredozemlje je prestalo biti središte trgovine

(1 bod)

9. Što je posljedica djelovanja Fausta Vrančića?

- A. izum željeznice
- B. izum padobrana
- C. gradnja stonskih zidina
- D. prijevod Biblije na hrvatski jezik

(1 bod)

10. Što se Velikom poveljom sloboda promijenilo u odnosu engleskoga kralja Ivana bez Zemlje i plemstva?

- A. uvođenje poreza plemstvu
- B. ograničenje kraljeve vlasti
- C. ukidanje plemićkih povlastica
- D. obveza oslobađanja kmetova

(1 bod)

# Povijest

---

11. Koja je bila posljedica odluka donesenih na crkvenim saborima u Splitu 925. i 928. godine?

- A. Ukinuta je sisačka biskupija.
- B. Split je postao središte metropolije.
- C. Zadar je postao središte metropolije.
- D. Svećenici nisu morali znati grčki jezik.

(1 bod)

12. Pozorno promotrite slikovni prilog.



U kojemu je umjetničkom stilu izgrađena prikazana građevina?

- A. u predromaničkomu
- B. u romaničkomu
- C. u gotičkomu
- D. u baroknomu

(1 bod)



13. Što je bila misija opata Martina u Dalmaciji 641. godine?

- A. otkup zarobljenih kršćana od pogana
- B. osnutak biskupija u Zadru, Splitu i Ninu
- C. donošenje kraljevskih simbola kralju Zvonimiru
- D. odluka o ukidanju službe Božje na narodnome jeziku i zabrana nošenja brade

(1 bod)

14. Pozorno pročitajte povijesni izvor.

*Sam monarh odgovoran je svakomu podaniku za svoje upravljanje javnim novcem.*

Josip II.

Pod kakvim je utjecajem nastao stav Josipa II. o odnosu vladara i podanika?

- A. futurizma
- B. pozitivizma
- C. prosvjetiteljstva
- D. konzervativizma

(1 bod)

15. Pozorno pročitajte povijesni izvor.

*Sa 1841. godinom sam počela na hrvatskom pisati. Počela sam povêstice, pêsme i igrokaze pisati, ali mi neide za rukom; još nisam čversta u jeziku i velike pogrêške dêlam. Ja volim ilirske knjige uzeti pak iz njih e što god koristnog naučiti. Mučim se š njima to je istina, ali ja ipak napredujem.*

Tko je autorica povijesnoga izvora?

- A. Dragojla Jarnević
- B. Marija Jurić Zagorka
- C. Sidonija Rubido Erdödy
- D. Slava Raškaj

(1 bod)

# Povijest

---

16. Prema kojoj je od navedenih teorija poljoprivredna proizvodnja najvažnija grana gospodarstva?

- A. prema fiziokratizmu
- B. prema katedralizmu
- C. prema merkantilizmu
- D. prema gospodarskome liberalizmu

(1 bod)

17. Pozorno pročitajte povijesni izvor.

*Jučer je u gradskom poglavarstvu u Zagrebu prvi puta priključen neobičan novi aparat kojeg zovu „telefon”. Naši čitatelji sigurno su već mnogo čitali i čuli o tom novom „čudu našeg vremena, koje služi za prenošenje govora na daljinu. Ovih smo dana imali priliku uvjeriti se da taj jednostavni, neznatni stroj potpuno opravdava glas koji se o njemu proširio. (...) Iako je taj telefon po žici spojen sa drugim telefonom koji je udaljen čak 3 km, razgovor se vodi kao da dvoje sjede u istoj prostoriji. (...) U prvi čas vas preplaši glas dosta jasan, no nekako čudesan od čovjeka kojeg ne vidite i ne poznajete, a koji vam nekim čudom odgovara kao da stoji pored vas.*

Koja je prema povijesnome izvoru glavna značajka izuma telefona za tadašnje hrvatsko društvo i svakodnevicu?

- A. zabava
- B. masovni medij
- C. prijenos govora na daljinu
- D. razvoj željezničkoga transporta

(1 bod)

18. Kakve je promjene potaknula Darwinova teorija o evoluciji živih bića?

- A. Potaknula je razvoj psihoanalize.
- B. Utjecala je na razvoj tehnologije i industrije.
- C. Utjecala je samo na razvoj evolucijske biologije.
- D. Potaknula je razvoj različitih prirodnih i društvenih znanosti.

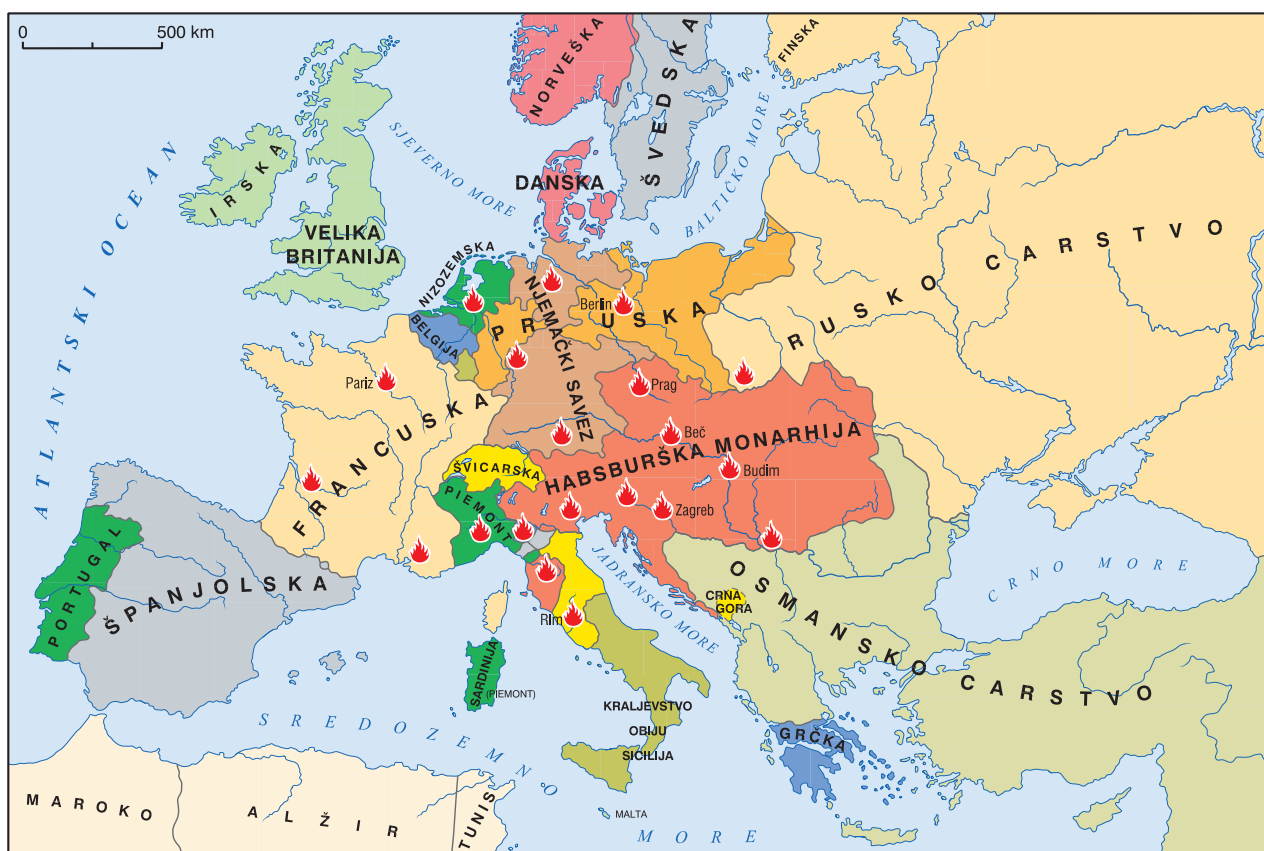
(1 bod)

19. Koji je bio glavni uzrok odlaska Ivana Mažuranića s banske časti 1880. godine?

- A. neuspjeh revizije Ugarsko-hrvatske nagodbe
- B. ograničavanje slobode tiska i neovisnosti sudstva
- C. uvođenje odgovornosti bana i vlade Hrvatskomu saboru
- D. mađarsko odugovlačenje provedbe sjedinjenja Vojne Krajine s Hrvatskom

(1 bod)

20. Pozorno pogledajte povijesni zemljovid.



Što je prikazano na povijesnome zemljovidu?

- A. Francuska revolucija od 1789. do 1795. godine
- B. Napoleonski ratovi od 1800. do 1815. godine
- C. revolucije iz 1848. i 1849. godine
- D. djelovanje Svete Alijanse od 1861. do 1870. godine

(1 bod)

# Povijest

---

21. Pozorno promotrite slikovni prilog.



U kojemu je umjetničkom stilu izgrađen prikazani dvorac?

- A. u secesiji
- B. u art décou
- C. u klasicizmu
- D. u historicizmu

(1 bod)

22. Što je od navedenoga obilježje jugoslavenskoga društva u desetljeću nakon završetka Drugoga svjetskog rata?

- A. razvoj turizma
- B. uvođenje višestranačja
- C. jačanje suradnje Crkve i države
- D. progoni političkih i ideoloških protivnika

(1 bod)

23. Pozorno pogledajte povijesni zemljovid.



Imperijalna osvajanja koje su države prikazana na povijesnome zemljovidu?

- A. Francuske
- B. Italije
- C. Njemačke
- D. Velike Britanije

(1 bod)

24. Što je za jugoslavensko gospodarstvo bila posljedica približavanja Zapadu tijekom 1950-ih godina?

- A. Pokrenuta je kolektivizacija.
- B. Pokrenuti su prisilni javni radovi.
- C. Uvedeno je plansko gospodarstvo.
- D. Uvedeno je socijalističko samoupravljanje.

(1 bod)

# Povijest

---

25. Pozorno pročitajte povijesni izvor.

*U časopisu Nova republika 1. veljače 1933. objavljeno je sljedeće: Ne postoji kontejner za smeće u Chicagu kojeg marljivo ne opsjedaju gladni. Prošlo ljeto, tijekom vrućina, kada je smrad bio mučan, a rojevi muha gusti, stotine ljudi dnevno dolazili su do smetlišta, bacali se na hrpu otpada čim su kamioni otišli i kopali štapovima i rukama.*

Koje je razdoblje američke povijesti opisano u povijesnome izvoru?

- A. detanta
- B. makartizma
- C. Monroeve doktrine
- D. Velike gospodarske krize

(1 bod)

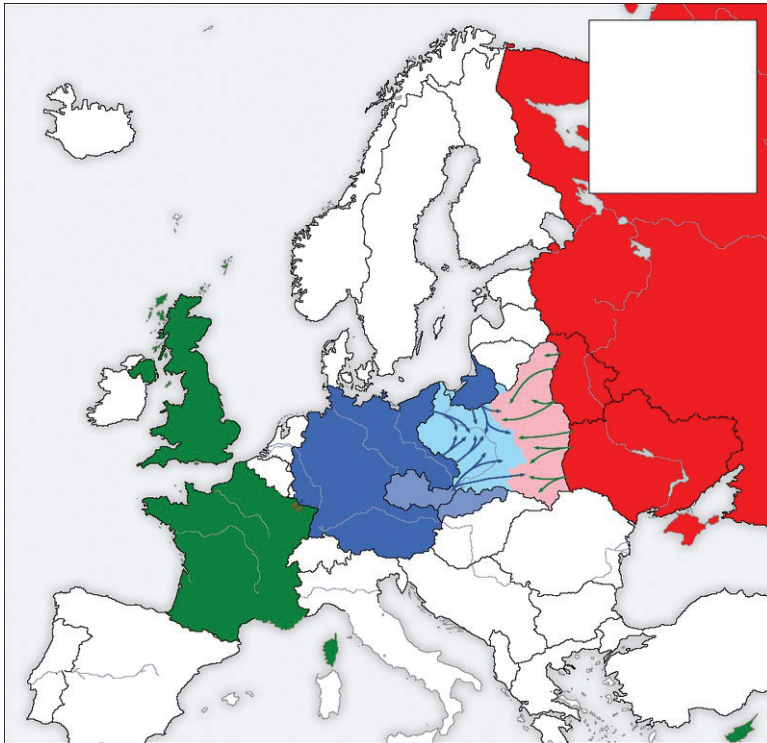
26. U kojoj je državi izgrađen prvi nuklearni reaktor za proizvodnju električne energije?

- A. u Japanu
- B. u SAD-u
- C. u Sloveniji
- D. u SSSR-u

(1 bod)



27. Pozorno promotrite povijesni zemljovid.



Koji je događaj prikazan na povijesnome zemljovidu?

- A. sovjetsko-finski rat
- B. napad Njemačke na SSSR
- C. napad Njemačke i SSSR-a na Poljsku
- D. sovjetska vojna kampanja iz 1944. godine

(1 bod)

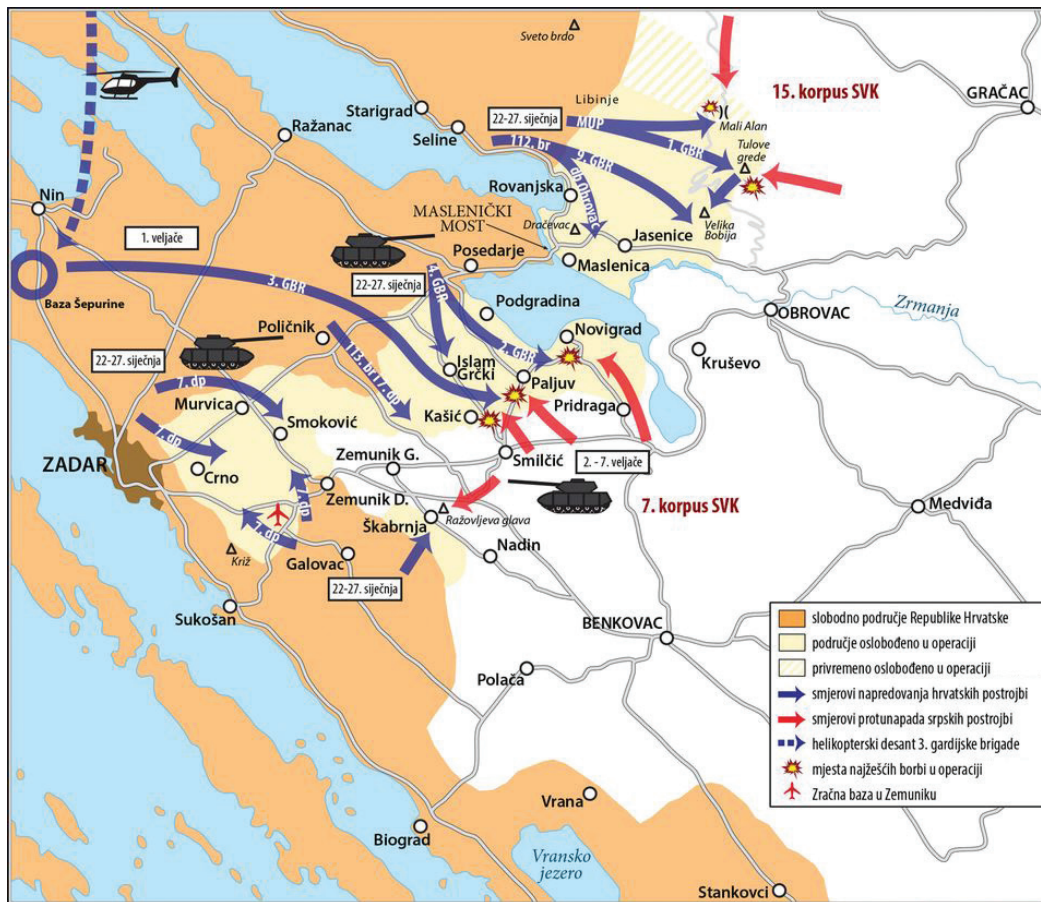
28. Što je bila neposredna posljedica atentata na hrvatske zastupnike u Narodnoj skupštini 1928. godine?

- A. nastanak Banovine Hrvatske
- B. dolazak kneza Pavla na vlast
- C. uvođenje Šestosiječanjske diktature
- D. raspuštanje Seljačko-demokratske koalicije

(1 bod)

# Povijest

29. Pozorno promotrite povijesni zemljovid.



Koja je vojna akcija prikazana na zemljovidu?

- A. Oluja
- B. Gusar
- C. Bljesak
- D. Medački džep

(1 bod)

30. Koji od navedenih sastava **nije pripadao** glazbenomu stilu novoga vala iz 70-ih godina 20. stoljeća na području SFRJ-a?

- A. Azra
- B. Crvena jabuka
- C. Haustor
- D. Prljavo kazalište

(1 bod)



## II. Zadatci višestrukoga izbora (kronologije)

U sljedećim zadacima od više ponuđenih odgovora samo je **jedan** točan.

Točne odgovore morate označiti znakom X na listu za odgovore.

Točan odgovor donosi jedan bod.

**31.** U kojemu su nizu točno kronološki poredani događaji koji su doveli do drugoga građanskog rata u Rimu?

- A. Sulina diktatura → suparništvo Cezara i Pompeja → uspostava prvoga trijumvirata → Marijeva reforma vojske
- B. suparništvo Cezara i Pompeja → uspostava prvoga trijumvirata → Marijeva reforma vojske → Sulina diktatura
- C. uspostava prvoga trijumvirata → Sulina diktatura → suparništvo Cezara i Pompeja → Marijeva reforma vojske
- D. Marijeva reforma vojske → Sulina diktatura → uspostava prvoga trijumvirata → suparništvo Cezara i Pompeja

(1 bod)

**32.** U kojemu su nizu točno kronološki poredani događaji iz povijesti Ilirika?

- A. rat Rimljana i Teute → Batonov ustanak → pokoravanje Histra → podjela Ilirika na Dalmaciju i Panoniju
- B. rat Rimljana i Teute → pokoravanje Histra → Batonov ustanak → podjela Ilirika na Dalmaciju i Panoniju
- C. pokoravanje Histra → rat Rimljana i Teute → Batonov ustanak → podjela Ilirika na Dalmaciju i Panoniju
- D. podjela Ilirika na Dalmaciju i Panoniju → pokoravanje Histra → Batonov ustanak → rat Rimljana i Teute

(1 bod)

**33.** U kojemu su nizu točno kronološki poredani franački vladari?

- A. Klodvig → Pipin Mali → Karlo Veliki → Ludovik Pobožni
- B. Pipin Mali → Klodvig → Ludovik Pobožni → Karlo Veliki
- C. Karlo Veliki → Pipin Mali → Klodvig → Ludovik Pobožni
- D. Ludovik Pobožni → Karlo Veliki → Pipin Mali → Klodvig

(1 bod)

# Povijest

---

34. U kojemu su nizu točno kronološki poredani hrvatski ranosrednjovjekovni vladari?

- A. Petar Krešimir IV. → Dmitar Zvonimir → Tomislav → Trpimir
- B. Trpimir → Tomislav → Petar Krešimir IV. → Dmitar Zvonimir
- C. Dmitar Zvonimir → Petar Krešimir IV. → Trpimir → Tomislav
- D. Tomislav → Trpimir → Dmitar Zvonimir → Petar Krešimir IV.

(1 bod)

35. U kojemu su nizu točno kronološki poredane bitke iz Napoleonskih ratova?

- A. Bitka kod Trafalgara → Bitka kod Austerlitz → Bitka kod Borodina → Bitka kod Leipziga
- B. Bitka kod Austerlitz → Bitka kod Leipziga → Bitka kod Trafalgara → Bitka kod Borodina
- C. Bitka kod Borodina → Bitka kod Trafalgara → Bitka kod Leipziga → Bitka kod Austerlitz
- D. Bitka kod Leipziga → Bitka kod Borodina → Bitka kod Austerlitz → Bitka kod Trafalgara

(1 bod)

36. U kojemu je nizu točno kronološki poredan nastanak djela i institucija iz vremena hrvatskoga narodnog preporoda?

- A. *Disertacija iliti razgovor* → *Kratka osnova horvatsko-slavenskoga pravopisanja* → *Ilirske narodne novine* → Matica ilirska
- B. *Kratka osnova horvatsko-slavenskoga pravopisanja* → *Disertacija iliti razgovor* → Matica ilirska → *Ilirske narodne novine*
- C. *Kratka osnova horvatsko-slavenskoga pravopisanja* → *Disertacija iliti razgovor* → *Ilirske narodne novine* → Matica ilirska
- D. Matica ilirska → *Kratka osnova horvatsko-slavenskoga pravopisanja* → *Disertacija iliti razgovor* → *Ilirske narodne novine*

(1 bod)

37. U kojemu su nizu točno kronološki poredani događaji nakon Drugoga svjetskog rata?

- A. osnutak NATO saveza → nirnberški proces → početak Korejskoga rata  
→ osnutak Varšavskoga pakta
- B. osnutak Varšavskoga pakta → Osnutak NATO saveza → početak Korejskoga rata  
→ nirnberški proces
- C. nirnberški proces → osnutak NATO saveza → početak Korejskoga rata  
→ osnutak Varšavskoga pakta
- D. nirnberški proces → početak Korejskoga rata → osnutak NATO saveza  
→ osnutak Varšavskoga pakta

(1 bod)

38. U kojemu su nizu točno kronološki poredani događaji iz hrvatske povijesti u drugoj polovini 20. stoljeća?

- A. višestranački izbori u Socijalističkoj Republici Hrvatskoj → 14. kongres SKJ-a  
→ raketiranje Banskih dvora → međunarodno priznanje Republike Hrvatske
- B. 14. kongres SKJ-a → raketiranje Banskih dvora  
→ višestranački izbori u Socijalističkoj Republici Hrvatskoj  
→ međunarodno priznanje Republike Hrvatske
- C. 14. kongres SKJ-a → višestranački izbori u Socijalističkoj Republici Hrvatskoj  
→ raketiranje Banskih dvora → međunarodno priznanje Republike Hrvatske
- D. višestranački izbori u Socijalističkoj Republici Hrvatskoj → raketiranje Banskih dvora  
→ 14. kongres SKJ-a → međunarodno priznanje Republike Hrvatske

(1 bod)

### III. Zadatci višestrukoga izbora (uz polazni sadržaj)

U sljedećim zadacima proučite povijesne izvore, povijesne zemljovide i slikovne priloge te odgovorite na postavljena pitanja.

Od više ponuđenih odgovora samo je **jedan** točan.

Točne odgovore morate označiti znakom X na listu za odgovore.

Točan odgovor donosi jedan bod.

**39.** Pozorno pročitajte povijesni izvor i odgovorite na postavljena pitanja.

*Sve što imadoh ponesoh sa sobom, sve što u životu stekoh, Pozvah u svoje vozilo obitelj i sve rođake, životinje poljske, marvu s paše i ljude s posla – sve ukrcah. Uniđem u vozilo i zaključah vrata. Kada je granulo sunce, daleko na obzorju navuče se crni oblak. Vedrina dana najedanput se prometne u noć, brat ne vidi više brata, narod neba ne može više da prepozna. Bogovi bijahu prestrašeni od povodnje, bježahu i utekoše k nebu Anua. (...) Šest dana i šest noći bijahu oluja i poplava, orkan vladaše na zemlji.*

**39.1.** Iz kojega je književnog djela navedeni ulomak?

- A. iz *Ilijade*
- B. iz *Ramajane*
- C. iz Novoga zavjeta
- D. iz *Epa o Gilgamešu*

(1 bod)

**39.2.** Na kojemu se geografskom području razvio mit opisan u povijesnome izvoru?

- A. u Indiji
- B. u Kini
- C. u Egiptu
- D. u Mezopotamiji

(1 bod)

40. Pozorno promotrite slikovni prilog i odgovorite na postavljena pitanja.



40.1. Koja je antička figura prikazana na slikovnome prilogu?

- A. Apoksiomen
- B. Diskobol
- C. Dorifor
- D. Kairos

(1 bod)

40.2. Gdje se čuva kip prikazan na slikovnome prilogu?

- A. u Malome Lošinj
- B. u Metkoviću
- C. u Puli
- D. u Zagrebu

(1 bod)

# Povijest

---

41. Pozorno pročitajte povijesni izvor i odgovorite na postavljena pitanja.

*U četvrtak, sedmog dana travanjskih ida, pred grofom je obavljena ceremonija (...) polaganja zakletve vjernosti ovim redom. (...) grof je upitao budućeg vazala želi li postati njegov čovjek bez zadržke, a ovaj je odgovorio: „Hoću.” Zatim ukrižiše ruke, zagriše se i poljubiše. Zatim ovaj koji je postao vazal zakune se grofu ovim riječima: „Obećavam čvrstom vjerom da ću od ovog trenutka biti vjeran grofu Gijomu i da ću protiv svih čuvati čast, poštivati ga, biti vjeran i bez podvale.”*

41.1. Koji je događaj opisan u povijesnome izvoru?

- A. uvođenje u crkvenu službu
- B. potvrđivanje gradskoga sudca
- C. sklapanje trgovačkoga ugovora
- D. sklapanje seniorsko-vazalnoga odnosa

(1 bod)

41.2. U kojemu se povijesnom razdoblju odvijao opisani proces?

- A. u prapovijesti
- B. u srednjemu vijeku
- C. u starome vijeku
- D. u razdoblju imperijalizma

(1 bod)

**42.** Pozorno pročitajte povijesni izvor i odgovorite na postavljena pitanja.

*U ovom grobu počiva glasovita Jelena koja je bila supruga kralju Mihajlu, a majka Stjepana kralja, te je upravljala kraljevstvom. Osmog mjeseca listopada preminu u miru... i bi ovdje ukopana 976. godine od utjelovljenja Gospodnjeg. Gle, ovo je ona koja je za života bila majka kraljevstva, a zatim postala majkom siročadi i zaštitnicom udovica. (...)*

**42.1.** Tko je zaslužan za pronalazak sarkofaga s natpisom iz povijesnoga izvora?

- A. Duje Rendić-Miočević
- B. don Frano Bulić
- C. Josip Brunšmid
- D. don Lovro Katić

(1 bod)

**42.2.** Koje je značenje povijesnoga izvora za hrvatsku ranosrednjovjekovnu povijest?


- A. Natpis je napisan na glagoljici.
- B. Natpis je dokaz o pokršćavanju Hrvata.
- C. Natpis je upotpunio rodoslovlje dinastije Trpimirović.
- D. Natpis je potvrdio iransku teoriju o podrijetlu Hrvata.

(1 bod)

# Povijest

---

43. Pozorno promotrite slikovni prilog i odgovorite na postavljena pitanja.



43.1. Koji je izum prikazan na slikovnome prilogu?

- A. žetelica
- B. munjovod
- C. parni stroj
- D. mehanička predilica

(1 bod)

43.2. Komu je upotreba prikazanoga stroja donijela najveći profit?

- A. radnicima
- B. kućnoj radinosti
- C. vlasnicima tvornica
- D. poljoprivrednim zadrugama

(1 bod)



**44.** Pozorno pročitajte povijesni izvor i odgovorite na postavljena pitanja.

*(...) predsjednik Odbora za dodjelu Edisonove medalje prilikom uručenja nagrade 1917. uputio je ove riječi znanstveniku:*

*Ako bismo iz našeg industrijskog svijeta izuzeli i uklonili rezultate rada gospodina (...), kotači industrije prestali bi se okretati, naši električni vlakovi i vozila bi se zaustavili, naši gradovi utonuli bi u mrak (...) Priroda i prirodni zakoni bili bi skriveni u mraku.*

**44.1.** Na kojega se znanstvenika odnosi opis iz povijesnoga izvora?

- A. na Alberta Einsteina
- B. na Georga Mendela
- C. na Lavoslava Ružičku
- D. na Nikolu Teslu

(1 bod)

**44.2.** Koje su dugoročne posljedice izuma znanstvenika opisanoga u povijesnome izvoru?

- A. razvoj farmacije
- B. elektrifikacija svijeta
- C. razvoj organske kemije
- D. primjena znanja nuklearne fizike

(1 bod)

# Povijest

---

45. Pozorno promotrite slikovni prilog i odgovorite na postavljena pitanja.



45.1. Koja je umjetnica prikazana na slikovnome prilogu?

- A. Amelia Earhart
- B. Beatrice Wood
- C. Dora Maar
- D. Frida Kahlo

(1 bod)

45.2. Utjecaj kojih je pravaca prisutan na prikazanome umjetničkom djelu?

- A. francuskoga kubizma i pop-arta
- B. švicarskoga dadaizma i secesije
- C. meksičke tradicije i nadrealizma
- D. talijanskoga futurizma i impresionizma

(1 bod)

46. Pozorno promotrite povijesni zemljoivid i odgovorite na postavljena pitanja.



46.1. Što je prikazano na povijesnome zemljoividu?

- A. Banovina Hrvatska
- B. Nezavisna Država Hrvatska
- C. Hrvatska unutar Države SHS
- D. Hrvatska unutar Kraljevine SHS

(1 bod)

46.2. Na temelju sporazuma kojih je političara nastalo teritorijalno rješenje hrvatskoga pitanja prikazano na povijesnome zemljoividu?

- A. Frana Supila i Ante Trumbića
- B. Dragiše Cvetkovića i Vladka Mačeka
- C. Nikole Pašića i Svetozara Pribičevića
- D. Ante Pavelića i Benita Mussolinija

(1 bod)

## IV. Zadatak produženoga odgovora

U sljedećemu zadatku pažljivo promotrite povijesni izvor i odgovorite na postavljena pitanja na predviđeno mjesto u ispitnoj knjižici.

47. Pažljivo promotrite slikovni prilog i odgovorite na postavljena pitanja.



Podatci o povijesnome izvoru: Sliku *Sloboda predvodi narod* naslikao je Eugene Delacroix 1830. godine.

- 47.1.** Odredite vrijeme i prostor nastanka slikovnog priloga. Objasnite društveno-povijesne okolnosti koristeći se sljedećim pojmovima: „Srpanjska revolucija”, „Karlo X.”, „apsolutna monarhija”, „Luj Filip i ustavna monarhija” i „alegorijski prikaz”.

---

---

---

---

---

---

---

---

---

---

---

---

---

---

---

---

---

---

---

---

---

---

---

---

---

(3 boda)

# Povijest

---

**47.2.** Navedite komu je slikovni prilog bio namijenjen. Objasnite svrhu i poruku prikazanoga slikovnoga priloga.

---

---

---

---

---

---

---

---

---

---

(3 boda)

**47.3.** Navedite tri primjera/elementa sa slikovnoga priloga koji upućuju na njegovu svrhu.

---

---

---

---

---

---

---

---

---

---

(3 boda)

Prazna stranica

Prazna stranica